

PROBLEMAS DE SUMAR Y RESTAR 1


En nuestro colegio hay 432 alumnos. Hoy han venido 419 a clase. ¿Cuántos alumnos han faltado?

RODEA EL RAZONAMIENTO CORRECTO

SUMA O TOTAL	

EL RESTO-LO QUE FALTA-
-LO QUE SOBRA- LA DIFERENCIA

--



SOLUCIÓN: _____

En un aparcamiento hay 329 coches y llegan 38 más. ¿Cuántos coches hay ahora?

RODEA EL RAZONAMIENTO CORRECTO

SUMA O TOTAL	

EL RESTO-LO QUE FALTA-
-LO QUE SOBRA- LA DIFERENCIA

--



SOLUCIÓN: _____

PROBLEMAS DE SUMAR Y RESTAR 2

Unos patines cuestan 39 € pero yo solo tengo 25 €. ¿Cuántos euros me faltan?



RODEA EL RAZONAMIENTO CORRECTO

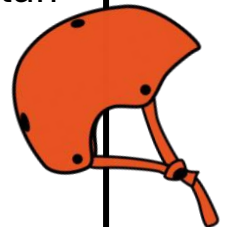
SUMA O TOTAL	

EL RESTO-LO QUE FALTA-
-LO QUE SOBRA- LA DIFERENCIA

--

SOLUCIÓN: _____

Para poder patinar me he comprado un casco que cuesta 43 € y unas rodilleras que cuestan 19 €. ¿Cuánto dinero me he gastado?



RODEA EL RAZONAMIENTO CORRECTO

SUMA O TOTAL	

EL RESTO-LO QUE FALTA-
-LO QUE SOBRA- LA DIFERENCIA

--

SOLUCIÓN: _____

PROBLEMAS DE SUMAR Y RESTAR 3


Una raqueta de tenis cuesta 28 €. En mi hucha tengo 40 €. Si la compro, ¿cuánto dinero me sobrará?

RODEA EL RAZONAMIENTO CORRECTO

SUMA O TOTAL	

EL RESTO-LO QUE FALTA-
-LO QUE SOBRA- LA DIFERENCIA

--



SOLUCIÓN: _____


Raquel tiene una bolsa con 122 caramelos. Yo tengo otra bolsa con 53 caramelos menos. ¿Cuántos caramelos tengo yo?

RODEA EL RAZONAMIENTO CORRECTO

SUMA O TOTAL	

EL RESTO-LO QUE FALTA-
-LO QUE SOBRA- LA DIFERENCIA

--



SOLUCIÓN: _____

PROBLEMAS DE SUMAR Y RESTAR 4

María tiene 42 lápices de colores y Juan tiene 17. ¿Cuántos lápices de colores tiene María más que Juan?

RODEA EL RAZONAMIENTO CORRECTO

SUMA O TOTAL	

EL RESTO-LO QUE FALTA-
-LO QUE SOBRA- LA DIFERENCIA

--

SOLUCIÓN: _____

María tiene 48 lápices de colores, Juan 17 y Lucía tiene 64. ¿Cuántos lápices de colores tienen entre los tres?

RODEA EL RAZONAMIENTO CORRECTO

SUMA O TOTAL	

EL RESTO-LO QUE FALTA-
-LO QUE SOBRA- LA DIFERENCIA

--

SOLUCIÓN: _____

